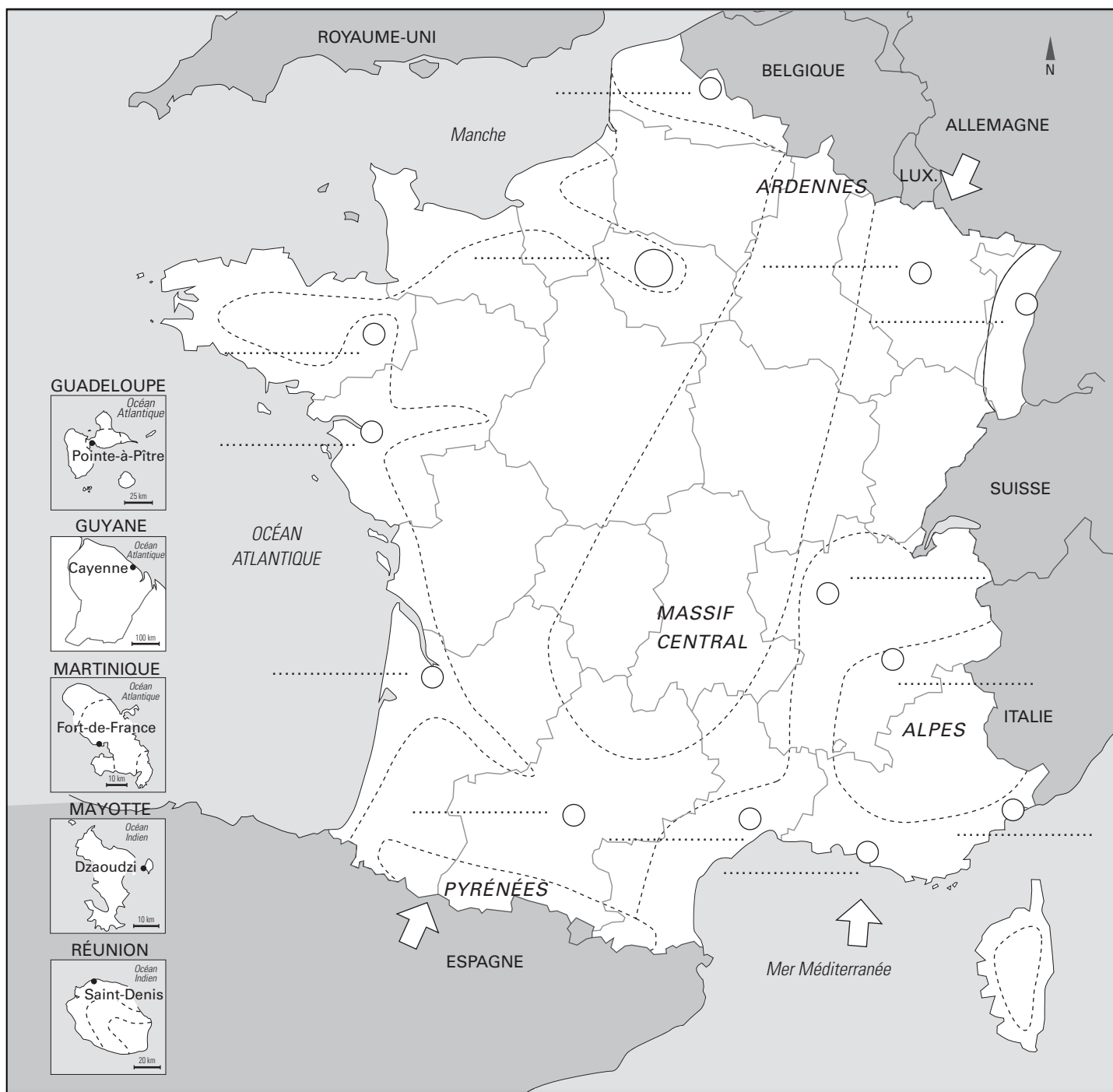





# BREVET : CROQUIS



## LA REPARTITION DE LA POPULATION FRANCAISE ET SES DYNAMIQUES






### 1. Une répartition inégale

-  Fortes densités de population
-  Densités moyennes de population
-  Faibles densités de la diagonale du vide

### 2. Une France urbanisée

-  Agglomération de plus de 10 millions d'habitants
-  Grandes agglomérations

### 3. Les dynamiques de peuplement

-  Grands flux migratoires
-  Régions attractives du Sud et de l'Ouest
-  Autres régions attractives à la frontière

100 km

### 1. Représentez, sans oublier les DROM :

- les espaces de forte densité en les coloriant en rouge
- les espaces de moyenne densité en les coloriant en jaune
- les espaces de faible densité en les coloriant en vert

### 2. Reportez en noir le nom des principales agglomérations.

### 3. Hachurez à la règle, proprement, en rouge, les régions attractives du territoire.

### 4. Représentez les principaux flux migratoires internes et externes.

### 5. Complétez la légende selon les figurés utilisés sur la carte.